

МАТЕМАТИКА

3 КЛАСС

**«Сложение и вычитание чисел
в пределах 1000»**

Найди лишнее число в каждой группе:

76	53	458	27	99	31	52	48
300	100	542	700	900	200		
548	460	752	340	76	953		
854	246	927	400	299	762		

Расположи числа 3-й строки в порядке возрастания.

Расположи числа 4-й строки в порядке убывания.

1) 458, 542, 76, 400

2) 76, 340, 460, 548, 752, 953

3) 927, 854, 762, 400, 299, 246

Сравни:

378...374

487...700

505...550

673...637

407 – 136...470 – 136

719 – 38 ... 719 - 380

**Какую цифру можно поставить вместо *, чтобы
получилось верное неравенство?**


$$5*4 < 514$$

$$715 > 7*5$$

$$206 > *06$$


$$628 < 62*$$

Схемы к задачам

1.  +


2. ?, на ... больше (+)

3. ?, на ...меньше (-)

4.  на ? б/м (-)

5. ?, в ... раз больше (x)

6. ?, во ... раз меньше (:)

7.  во ? раз б/м (:)

МОЛОДЦЫ !

